

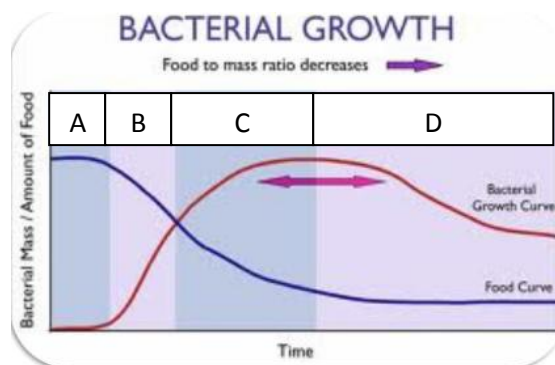
SOAL QUIZ

SEMESTER PENDEK TAHUN AJARAN 2012/2013

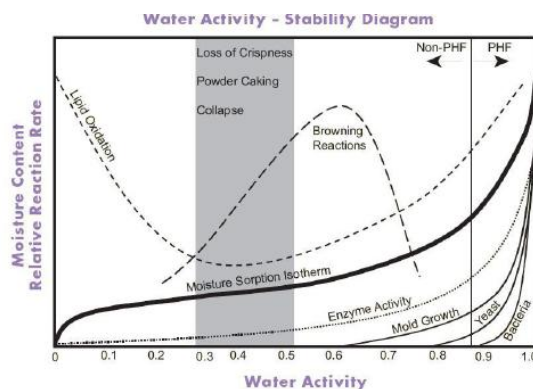
Mata Kuliah : Mikrobiologi Umum
Kode : TPP 4204/3/W
Kelas : A
Dosen : Mochamad Nurcholiz, STP, MP
Deadline : Kamis, 1 Agustus 2013

Petunjuk mengerjakan :

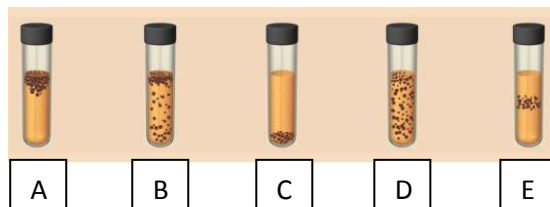
- Perhatikan gambar 1, 2, dan 3!
- Jelaskan gambar tersebut dengan singkat dan jelas!
- Deskripsi tidak boleh melebihi kotak jawaban yang telah disediakan!



Gambar 1. Kurva Pertumbuhan Mikroorganisme dan Penggunaan Nutrisi Selama Pertumbuhan Mikroorganisme



Gambar 2. Pengaruh Aw Terhadap Pertumbuhan Mikroorganisme



Gambar 3. Pengaruh Oksigen Terhadap Pertumbuhan Mikroorganisme

--- TAMALES AJREKEB NAD AGOMES SESKUS ULALES ---

SOAL QUIZ
SEMESTER PENDEK TAHUN AJARAN 2012/2013

LEMBAR JAWABAN

NAMA : _____

NIM : _____

NO URUT : _____

KELAS : _____

1. Deskripsi Gambar 1

2. Deskripsi Gambar 2

SOAL QUIZ
SEMESTER PENDEK TAHUN AJARAN 2012/2013

3. Deskripsi Gambar 3

